

بسم الله الرحمن الرحيم

الثانوية الإعدادية ابن رشد - طنجة -

السنة الدراسية : 2007/2006

الاختبار الموحد لمستوى الثالثة إعدادي

-الأسدس الأول-

مدة الانجاز : ساعتان

مادة الرياضيات

$$c = 3\sqrt{2} + \sqrt{8}$$

$$B = 3\sqrt{10} \times \sqrt{\frac{5}{2}}$$

$$A = \frac{1}{3 - \frac{1}{2}}$$

تمرين ①

$$E = \frac{(a^3)^4 \times a^{15}}{a^4}$$

$$D = \frac{1}{\sqrt{6}-2} - \frac{\sqrt{3}}{\sqrt{2}}$$

(5 نقط)

$$E = (3x+1)^2 - x(5x+6) : \text{ انشر وبسط ما يلي :}$$

تمرين ②

$$9x^2 - 5 : \text{ عمل :}$$

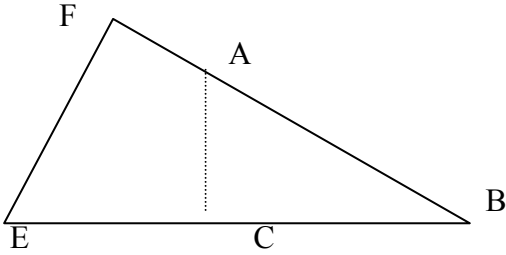
(2.5نقط)

ليكن العددين الحقيقيان x و y بحيث : $3 \leq x \leq 5$ و $-2 \leq y \leq -1$

تمرين ③

أطر : $x+y$ و $x-y$ و xy

(2,5 نقط)



ليكن الشكل التالي بحيث $AB = 10$ و $AC = 6$ و $CB = 8$

تمرين ④

(1) بين أن المثلث ABC قائم الزاوية في C

(2) أ- احسب $\tan B$

ب- علما أن : $AF = 4$ استنتج حساب EF

(2.5 نقط)

x قياس زاوية حادة. علما أن $\sin x = \frac{2}{3}$ أحسب $\cos x$ و $\tan x$

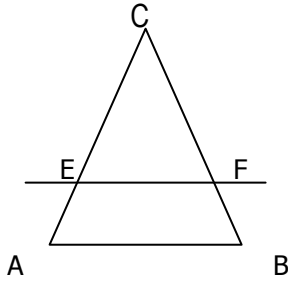
تمرين ⑤

(1,5 نقط)

(II) : $CE = 4$ $CA = 6$

$CB = 4,5$ $CF = 3$

$(EF) \parallel (AB)$



(I) ليكن الشكل التالي بحيث $(CD) \parallel (MN)$ و $CD = 2$

$OD = 1$ و $MN = 6$

أحسب OM

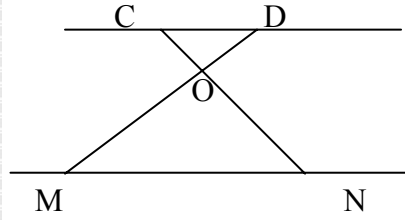
تمرين ⑥

(I)

(2 نقط)

(II)

(1,5 نقطة)



نعتبر الشكل التالي :

تمرين ⑥

(1) بين أن المثلثين ICD و IAB متشابهان .

(2) احسب \hat{BOD} علما أن : $\hat{BAD} = 50^\circ$

(2,5 نقطة)

